

Bahagian A  
[ 50 markah ]

*Jawab semua soalan.*

*Masa yang dicadangkan untuk bahagian ini: 60 minit*

1 Rajah 1 menunjukkan satu kaedah menyampaikan maklumat.



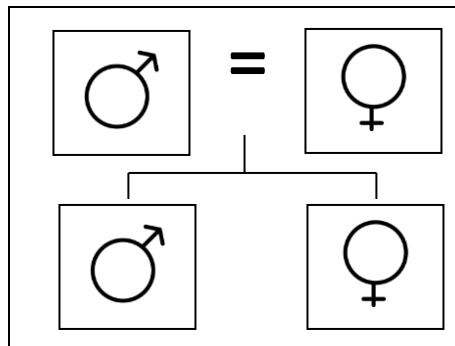
Rajah 1

Namakan kaedah tersebut.

.....

[1 markah]

2 Rajah 2 menunjukkan sebuah keluarga En. Azli



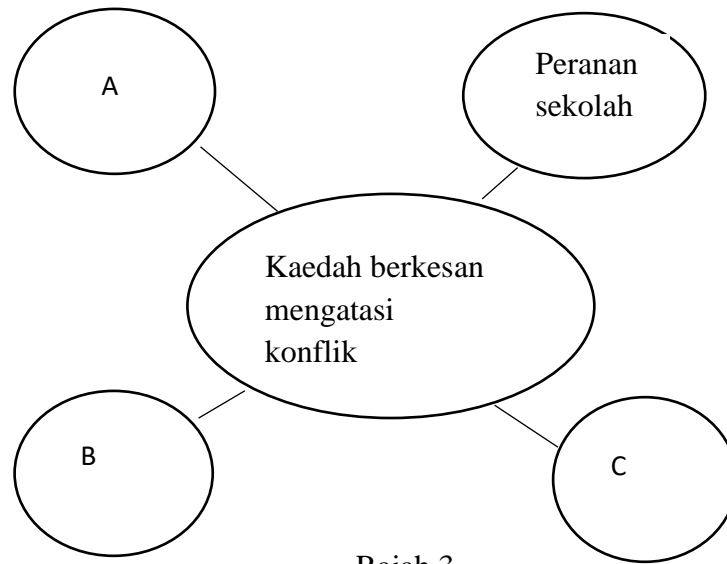
Rajah 2

Namakan struktur keluarga itu.

.....

[ 1 markah ]

- 3 Rajah 3 adalah peta buih tentang kaedah mengatasi konflik



Rajah 3

Nyatakan kaedah itu

A: .....

B: .....

C: .....

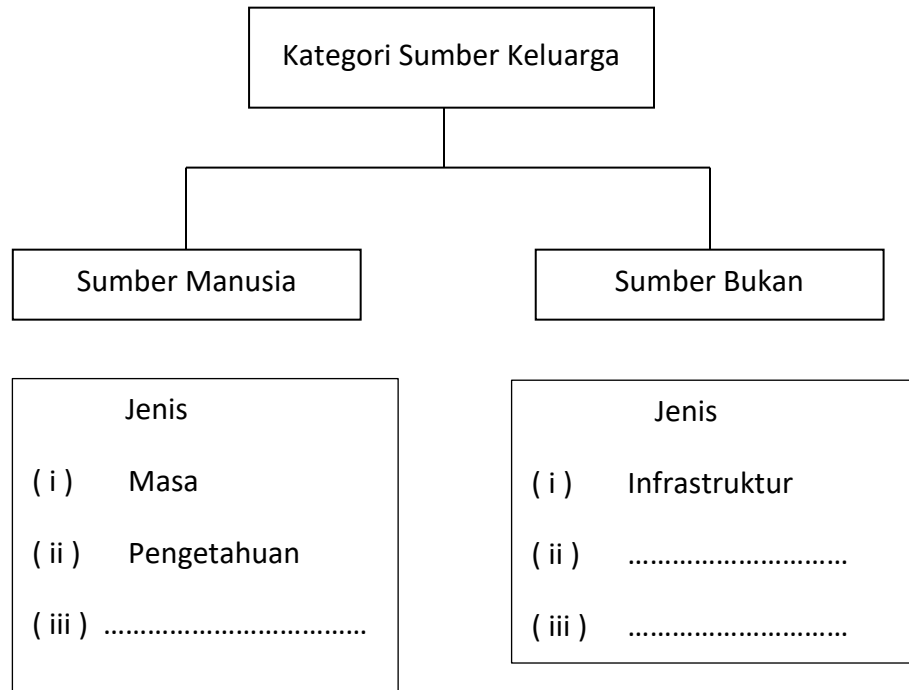
[3 markah]

- 4 Nyatakan satu perbezaan antara keperluan dan kehendak pada ruang yang disediakan.

Keperluan	Kehendak

[2 markah]

- 5 Rajah 4 menunjukkan kategori sumber keluarga. Lengkapkan rajah dengan menulis jawapan diruang yang disediakan.



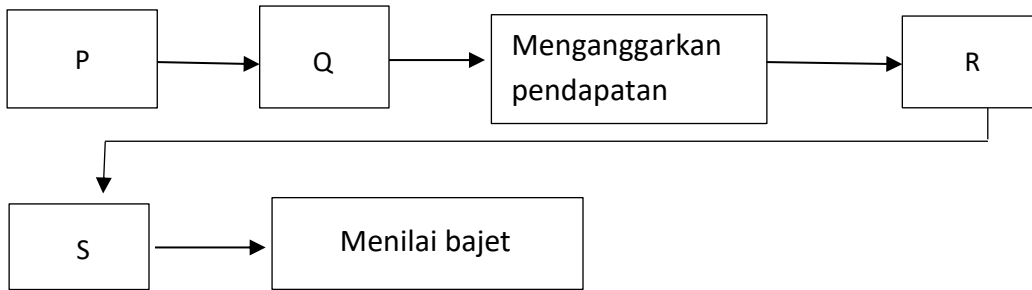
Rajah 4

[3 markah]

- 6 Berat badan Fasha ialah 66 kg dan tingginya ialah 170 cm. Hitung BMI bagi Fasha

[3 markah]

7 Rajah 5 menunjukkan carta alir langkah-langkah menyediakan bajet keluarga



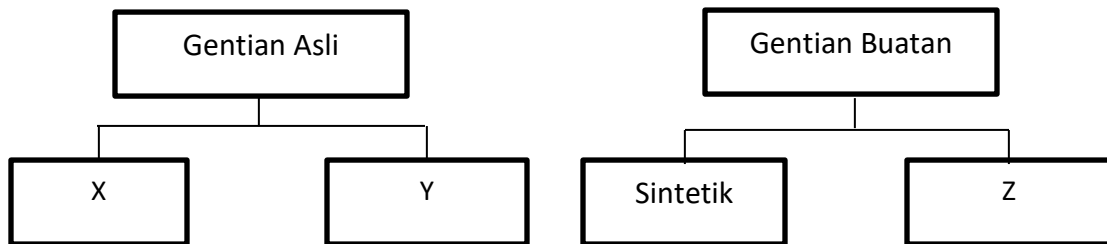
Rajah 5

Nyatakan P, Q, R dan S

- P: .....
- Q: .....
- R: .....
- S: .....

[4 markah]

8 Rajah 6 menunjukkan tentang klasifikasi gentian fabrik.



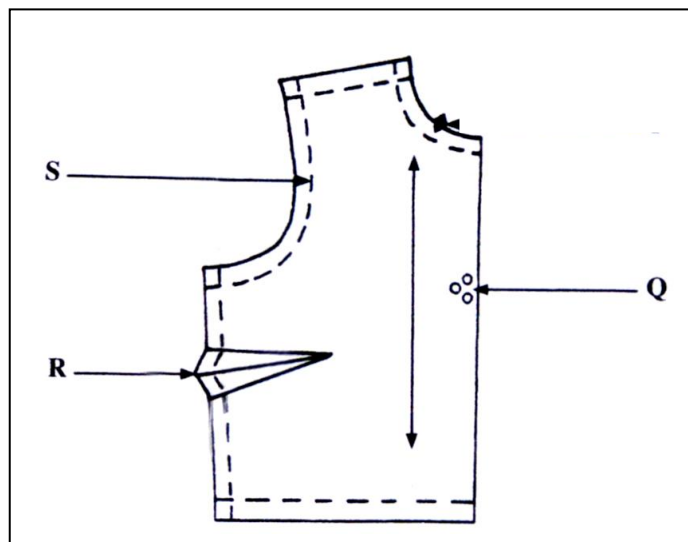
Rajah 6

Nyatakan X, Y dan Z

- X: .....
- Y: .....
- Z: .....

[ 3 markah ]

- 9 Rajah 7 menunjukkan pola badan hadapan sehelai blaus.



Rajah 7

Namakan tanda pola berikut.

Q: .....

R: .....

S: .....

[ 3 markah ]

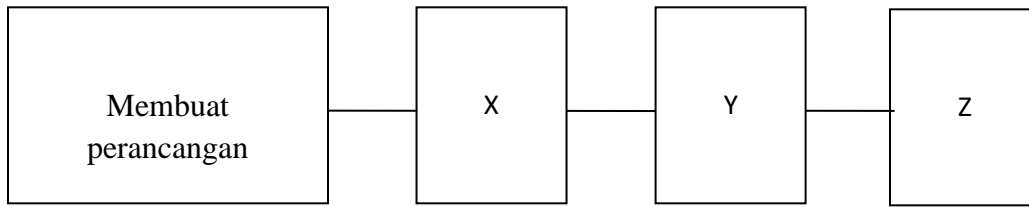
- 10 Jadual 1 adalah tentang nutrien dan sumbernya. Lengkapkan jadual dengan menulis pada ruang yang disediakan.

Nutrien	Sumber
Protein	
Karbohidrat	
Lemak	

Jadual 1

[ 3 markah ]

- 11 Rajah 8 menunjukkan peta alir prosedur memulakan perniagaan.



Rajah 8

Nyatakan X, Y dan Z

X: .....

Y: .....

Z: .....

[ 3 markah ]

- 12 Senaraikan 3 jenis tempat kerja dalam Industri Hospitaliti.

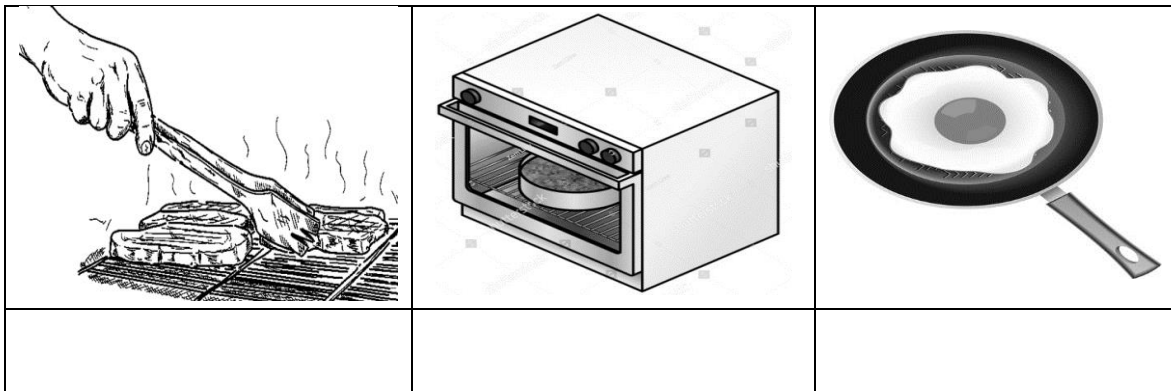
( a ) .....

( b ) .....

( c ) .....

[ 3 markah ]

- 13 Nyatakan kaedah memasak berdasarkan gambar yang telah diberikan.



[3 markah]

- 14 Pernyataan berikut adalah maksud tentang istilah dalam perkhidmatan penyediaan makanan.

Sistem kawalan kebersihan awam termasuk bekalan air bersih, pembuangan sampah dan pembuangan najis.

Apakah istilah itu?

.....

[1 markah]

- 15 Rajah 9 menunjukkan etika pemakaian pengendali makanan yang baik.



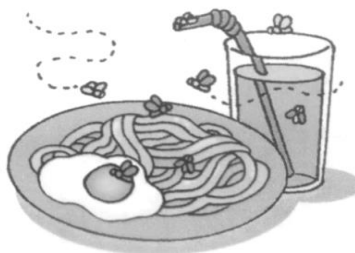
Rajah 9

Nyatakan kebersihan fizikal pengendali makanan daripada segi:

- (i) Rambut : .....
- (ii) Tangan : .....
- (iii) Pakaian : .....

[3 markah]

16 Rajah 10 menunjukkan makanan yang tercemar.




Rajah 10

Nyatakan punca pencemaran bagi makanan itu.

.....

[1 markah]

17 Rajah 11 menunjukkan alatan berteknologi tinggi.



Rajah 11

Nyatakan pengaruh teknologi dalam tempat kediaman dari aspek:

(i) Masa:

.....

(ii) Tenaga:

.....

[ 2 markah]



18 Nyatakan **tiga** cara pemilihan ikan yang segar.




( i ) .....

( ii ) .....

( iii ) .....

[ 3 markah ]

19 Lengkapkan jadual berikut tentang cara penyimpanan bahan makanan berikut

Bahan makanan	Cara Penyimpanan
	
	
	

[ 3 markah ]

20 Senaraikan **dua** bahan asas dalam penyediaan desert timur dan barat.

i).....

ii).....

[ 2 markah ]

**Bahagian B**

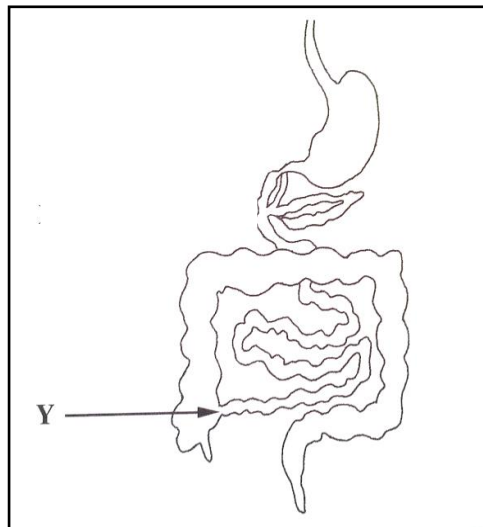
[ 50 markah ]

*Jawab semua soalan.**Masa yang dicadangkan untuk bahagian ini: 90 minit*

- 21 Rajah 12 menunjukkan roti yang diambil oleh Fatimah sebagai hidangan sarapan pagi.  
Rajah 13 menunjukkan organ pencernaan.



Rajah 12



Rajah 13

- (a) Namakan nutrien utama yang terdapat dalam hidangan Fatimah.

.....

[ 1 markah ]



- 22 Dapur En. Ahmad telah mendapat teguran dari pihak berkuasa kerana didapati tidak memenuhi aspek keselamatan yang boleh menyebabkan kemalangan. Rajah 14 menunjukkan dapur En. Ahmad.



Rajah 14

- (a) Terangkan punca yang boleh menyebabkan kemalangan di dapur itu dari aspek persekitaran.

.....

.....

.....

.....

.....

.....

.....

.....

.....

.....

.....

[ 6 markah ]

(b) Nyatakan tanggungjawab pekerja dalam usaha mencegah sebarang kemalangan berlaku di tempat kerja secara efektif.

(i) .....

(ii) .....

[ 2 markah ]

(c) Nyatakan prosedur pemindahan mangsa kebakaran menggunakan peralatan :-

(i) Kerusi  
.....  
.....  
.....



(ii) Selimut  
.....  
.....  
.....

[ 2 markah ]

- 23 Puan Hayati ingin membeli sebuah tempat kediaman. Rajah 15 menunjukkan maklumat tentang Puan Hayati dan Rajah 16 menunjukkan maklumat tentang dua rekabentuk rumah dan spesifikasinya.

Mempunyai 4 orang anak yang masih bersekolah menengah dan di pusat pengajian tinggi

Rajah 15


Rekabentuk Rumah	Spesifikasi
 <p>Scanned with <a href="http://WWW.REKABENTUKRUMAH.COM">WWW.REKABENTUKRUMAH.COM</a> Rumah A</p>	<p>Rumah A</p> <ul style="list-style-type: none"> <li>• Kediaman tidak mempunyai jeriji.</li> <li>• Berdekatan dengan sekolah, pusat membeli belah.</li> <li>• Mempunyai 3 bilik tidur dan 3 bilik air</li> </ul>
 <p>Scanned with <a href="http://WWW.REKABENTUKRUMAH.COM">WWW.REKABENTUKRUMAH.COM</a> Rumah B</p>	<p>Rumah B</p> <ul style="list-style-type: none"> <li>• Kediaman ini berdekatan balai polis, dilengkapi sistem penggera dan perkhidmatan pengawal keselamatan.</li> <li>• Berdekatan pusat membeli belah dan masjid dan berkonsepkan 'Kediaman Dalam Taman'.</li> <li>• Mempunyai 5 bilik tidur dan 4 bilik air.</li> </ul>

Rajah 16



24 Anda di minta untuk merekacipta sehelai pakaian cef bagi satu pertandingan jahitan.

- (a) Lakarkan pandangan hadapan berlabel pakaian cef itu dengan menggunakan croquis di lampiran 1 sebagai panduan di ruang jawapan yang disediakan.





(b) Terangkan dua ciri topi dan kasut pada reka bentuk yang anda lakarkan di a ( i )

.....  
.....  
.....  
.....

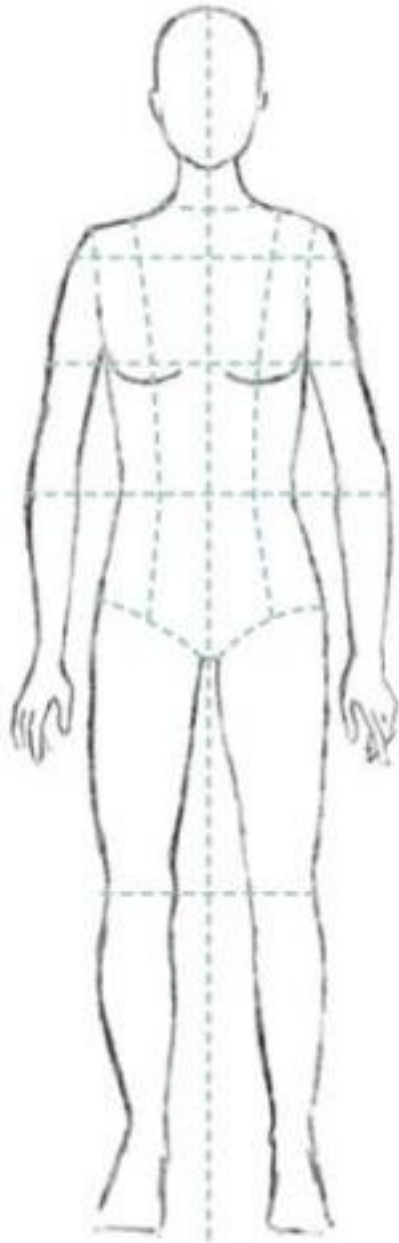
[ 4 markah ]

(c) Nyatakan kepentingan pemilihan jenis pakaian bagi seorang pengendali makanan.

.....  
.....  
.....  
.....

[ 4 markah ]

**SOALAN TAMAT**



Lampiran 1